

Г67

БЛАНК ОТВЕТОВ

Тестовый тур

№ задания	Ответ	Кол-во баллов	№ задания	Ответ	Кол-во баллов
1	б	1	9	а	0
2	2	1	10	А В	1
3	2.	1	11	индийский	0
4	В	0	12	2	1
5		0	13	б	1
6	А В	1	14	а	1
7	А	0	15	В	0
8	б	0			
Всего баллов					

Практический тур

Задание 1. Максимальное количество баллов – 10.

1) Подпишите условные обозначения плана местности, обозначенные цифрами

Цифра	Название
1	деревянный мост
2	кусты
3	сад
4	деревья
5	
6	кустарники

2) Что производит завод, изображенный на плане? САХАР

3) Какой тип дороги соединяет железнодорожную станцию с домиком лесника?

Бетонная, асфальтовая

4) Какой тип моста соединяет автомобильную дорогу?

Железнодорожный мост

Задание 2. Максимальное количество баллов – 6 баллов.

- Самый пустынный материк (без учета снежных пустынь Антарктиды).
- Материк с самой большой численностью населения.
- Материк, не имеющий коренного населения.

4. Материк – колыбель человечества.

5. Материк, где расположен самый высокий водопад в мире.

6. Материк, где расположен самый большой в мире речной каньон.

№	Материк
1	АФРИКА
2	Евразия
3	АРКТАКТИДА
4	АФРИКА
5	ЮЖНАЯ АМЕР.
6	ЕВРАЗИЯ

0
1
1
1
1
0

16

Всероссийская олимпиада школьников 2024-2025 учебный год
Школьный этап. География, 7 класс
Время выполнения 60 мин. Максимальное кол-во баллов – 38
БЛАНК ОТВЕТОВ

Г74

Тестовый тур

№ задания	Ответ	Кол-во баллов	№ задания	Ответ	Кол-во баллов
1	В	1	10	Г	0
2	А	1	11	А, В, Б, Г	1
3	В, Б, А, Г	1	12	В	0
4	Б	0	13		0
5	А	0	14	Б	0
6	Г, В, А, Б	1	15	Г	1
7	В	1	16	А	1
8	2Б, 1В, 3А, 4Г	1	17	Г	0
9	Б	0	18	В	1
Всего баллов					

Практический тур

Задание № 1.





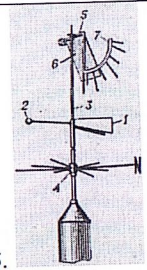

Матрица ответов

1	2	3	4	5	6	7	8	9	10
Б	В	А	К	Г	Е	Д	Н	Ч	З

Задание № 2.


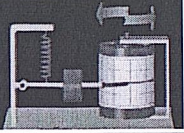


Вставьте недостающую информацию о географических приборах в соответствующую колонку. Максимальное количество баллов, которое можно набрать – 10.

Прибор	Название	Для чего служит?

1. 	Барометр	Для измерения давления 1
2. 	Курвиметр	Для измерения длины извилистых линий. 1
3. 	Указатель Барометр Землемер Аналог Теллурий.	Прибор для наглядной демонстрации годового движения Земли вокруг Солнца и суточного вращения Земли вокруг своей оси. 1
4. 	Гигрометр психрометрический	Измеряет влажность воздуха. 1
5. 	Флюгер	Прибор для измерения направления ветра. 1
6. 	Осадкомер	Прибор для измерения количества осадков. 1

40

7

7. 	Спидометр	Прибор для измерения скорости ветра. φ
8. 	Сейсмограф	Измеряет колебание земной поверхности. Измеряет все колебания Землетрясения. ↑
9. 	Компас	Прибор, предназначенный для определения сторон горизонта и состоящий из намагниченной стрелки, всегда показывающей на север. ↑
10. 	Лазерный дальномер	Прибор для измерения длины (дальности) расстояния) ↑

26

Всероссийская олимпиада школьников 2024-2025 учебный год
Школьный этап. География, 8 класс
Время выполнения 60 мин. Максимальное кол-во баллов – 48
БЛАНК ОТВЕТОВ

205

Г81

Тестовый тур

№ задания	Ответ	Кол-во баллов	№ задания	Ответ	Кол-во баллов
1	А, Г	0	10	Б	0
2	А	0	11	Ладожское	1
3	А, В	0	12	В	1
4	Б	1	13	В, Г	0
5	Тихий	0	14	А	1
6	В	0	15	А, В, Д	0
7	А, В	0	16	Б	0
8	АБ; ВБ; ВД; ГБ; АД; ЕА	0	17	В	0
9	А1; Б3; В4; Г2	0	18	Г	0
Всего					4

Практический тур

Задание 1. Максимальное количество баллов - 10

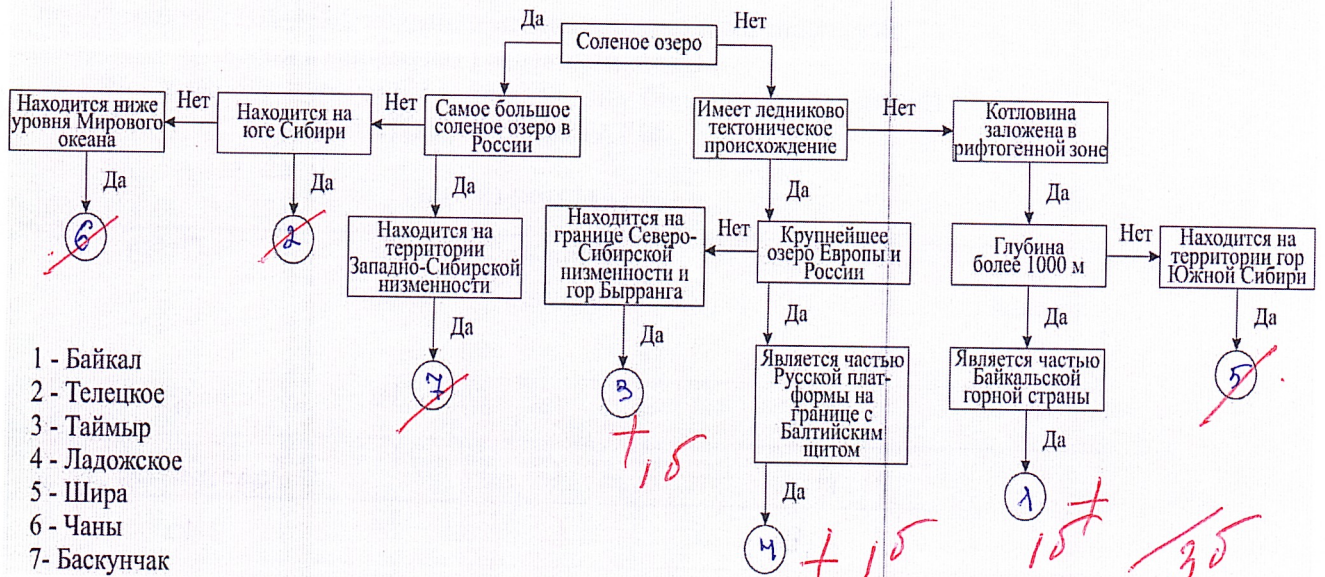
t °C января	t °C июля	Годовая амплитуда температур	Количество осадков за год	Месяц с наибольшим количеством осадков	Определите минимальное количество осадков за год	Единица измерения количества осадков
-22°C	+15°C	7°C 37°C	600 мм	июль	10 мм	мм
1	1	3	1	1	2	1

Задание 2.

Впишите в кружки цифры, соответствующие названиям озёр.

105

Максимальное количество баллов – 10



Задание 3. Максимальное количество баллов – 10

Тип рельефа	Рельефообразующие процессы		Территория России с преобладающим типом рельефа
	Номер описания	Название процесса	
Эоловый рельеф	3 0,5	дефляция 0,5	юго-восток Восточно-Европейской равнины 0,5
Флювиальный рельеф	4 0,5	эрозия	северное побережье Каспий, Восточный Саам
Мерзлотный рельеф	2 0	абразия 0	Якутия 1,5
Прибрежный рельеф	1 0,5	водная эрозия	побережье Балтийского моря
Ледниковый рельеф	5 0	термокаст	Большая часть территории России

3,5

Всероссийская олимпиада школьников 2024-25 учебный год
Школьный этап. География, 9 класс,
Время выполнения 90 мин. Максимальное кол-во баллов – 60

БЛАНК ОТВЕТОВ

Тестовый тур

г91

43,5

№ задания	Ответ	Кол-во баллов	№ задания	Ответ	Кол-во баллов
1	Б	1	11	Б	0
2	А	0	12	В	0
3	Г	1	13	Г	1
4	Б	1	14	А	1
5	В	0	15	Г	0
6	В	1	16	Б	1
7	Б	1	17	В	1
8	561432	1	18	Б	1
9	Ладыжское	1	19	Б	1
10	В	1	20	Г	1
ИТОГО					15

Практический тур

Задание 1.

Ответы:

- 1) 5 - 2
- 2) 1500 2
- 3) 1954 2

6

Максимальное число баллов за задание - 6

Задание 2.

Ответы:

- 1)
- 2)
- 3) 3 - Украина -
- 7 - Латвия 1
- 8 - Литва 1
- 14 - Эстония 1

3

Максимальное число баллов за задание - 8

Задание 3.

За каждый правильный ответ по 2 балла

1.	Абаман Станбы Абаман (Николаевская елка)
----	--

2.	Лангеворх	2
3.	Озеро Виви (в Эвенкийский район)	2
4.	Столбы	10
5.	Енисейский кремль	2

65

Максимальное число баллов за задание – 10

Задание 4.

№	На каком материке обитают эти животные (0,5 балла)	Какое место занимает этот материк по площади среди материков (0,5 балла)	В каком полушарии находится этот материк (по 0,5 за каждое)	В каких климатических поясах материк расположен (по 0,5 за каждый правильный ответ).	Всего баллов
1	Северная Америка 0,5	третье место 0,5	в западном 0,5	арктический субарктический умер. субтроп. троп. субэкватор. 3,5	4,5
2	Южная Америка 0,5	четвёртое место 0,5	в западном 0,5	субэкватор. экватор. троп. субтроп. умер. 2,5	4,5
3	Евразия 0,5	первое место 0,5	в восточном 0,5	экватор. субэкватор. троп. субтроп. умер. субарктик. арктик. 3,5	5,5

Максимальное число баллов за задание – 16

43,5

Всероссийская олимпиада школьников 2024-2025 учебный год
Школьный этап. География, 10-11 класс, задания
Время выполнения 90 мин. Максимальное кол-во баллов – 60

Бланк ответов
Тестовый тур

Г101

27,5

Матрица ответов

№ задания	Ответ	Кол-во баллов	№ задания	Ответ	Кол-во баллов
1	В	1	11	Г	0
2	Г	0	12	Кристальны	0
3	А Г Б В	1	13	В	1
4	А Ч Б В Г Д 1	1	14	А 2 Б 5 В 6 Г 4	0
5	Б	0	15	В	1
6	Вална	0	16	Эльдрюк	1
7	А 3 Б 2 В 4 Г 1	0	17		
8	Б-к/г пути		18	Туркменская	0
9	В	0	19	Тайна	1
10			20	3 7 4 5 2	0
	Всего				7

Практический тур

Задание 1.

Определите туристический объект, его название и страну, в которой он находится. Запишите название туристического объекта и страну его нахождения.

Максимальное количество баллов – 10 баллов.

Туристический объект	Название туристического объекта	Страна нахождения туристического объекта	Количество баллов
1.	Статуя Колум	Колум	1
2		Вална	1
3	Фудзияма	Япония	2
4	Великая Китайская стена	Китай	2
5		Тис -де-Монпелье	1

7

Задание 2. Определите географический район по его характеристике.
Максимальное количество баллов – 10.

№	Вопрос	Ответы	Кол-во баллов
1.	Назовите географический район	Европейский кол	2
2.	Какие два края входят в состав района?		
3.	Назовите город федерального значения	Иваново	2
4.	Назовите отрасли специализации района	Сельское хозяйство, цветная металлургия	1
5.	Назовите крупные города района	Сочи, Краснодар	0

5

Задание 3.

Рассчитайте ресурсообеспеченность стран. Используя данные из приведённой ниже таблицы, сравните ресурсообеспеченность стран пресной водой. Расположите страны в порядке уменьшения в них показателя ресурсообеспеченности пресной водой на душу населения, начиная со страны с наибольшим показателем.

Максимальное количество баллов – 10 баллов.

Расположите страны в порядке уменьшения в них показателя ресурсообеспеченности пресной водой на душу населения, начиная со страны с наибольшим показателем.

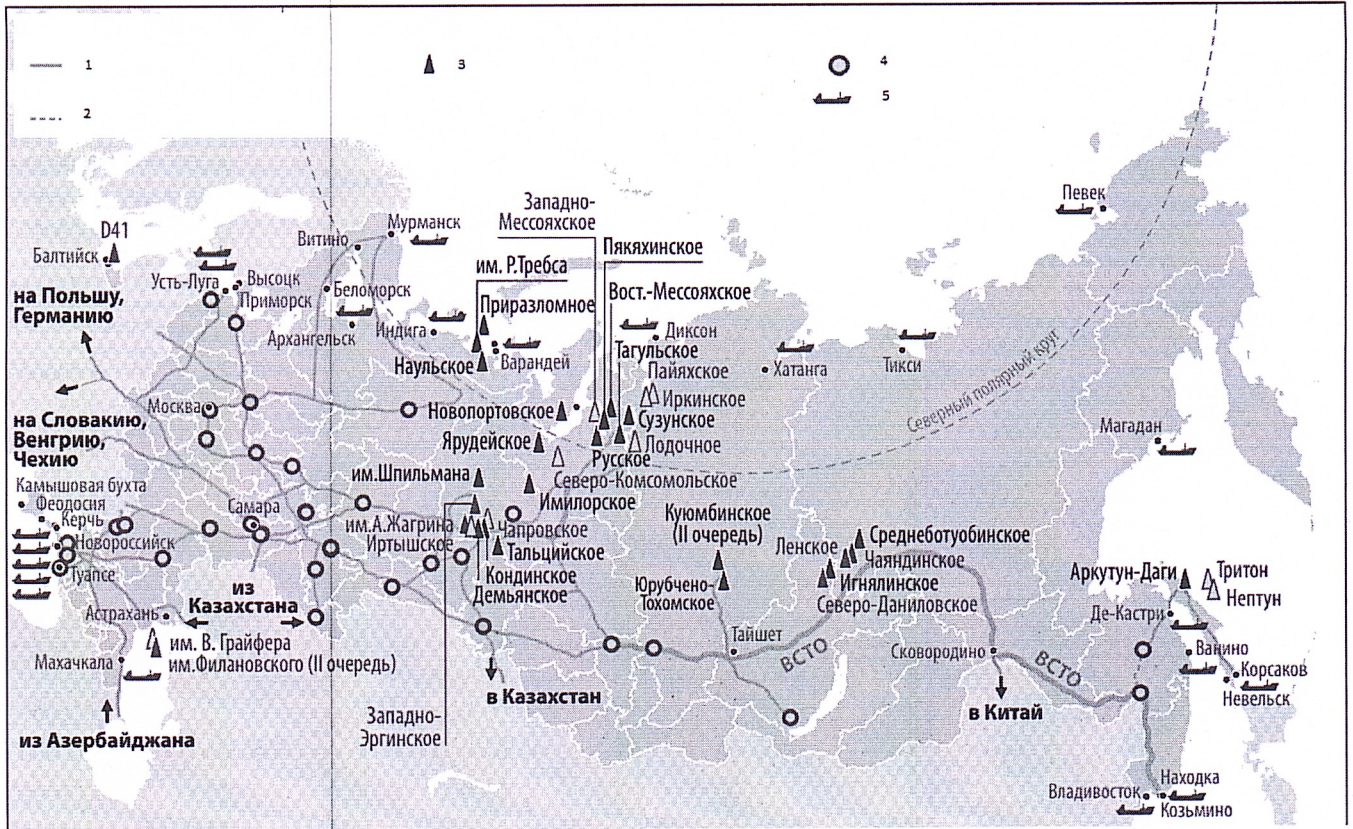
№	Страна	Ресурсообеспеченность
1.	Великобритания	7.7557
2.	Франция	7.5447
3.	Российская Федерация	9.4502
4.	Мьянма	0.3868
5.	Индия	0.0439

Задание 4.

Перед вами карта. Ответьте на вопросы, используя данную карту.

Максимальное количество баллов – 10 баллов.

0



1) Напишите название карты

Карта месторождений и перерабатывающих заводов

2) Напишите название условных обозначений в легенде карты

Цифра	Название
1	<i>Железнодорожный трубопровод</i>
2	
3	<i>Месторождение нефти</i>
4	<i>Нефтеперерабатывающий завод</i>
5	<i>Порт</i>

3) Какими видами транспортировки можно перевозить данный продукт

Морским, магистральным, по трубопроводам

4) Назовите географический район – лидер по добыче данного ресурса

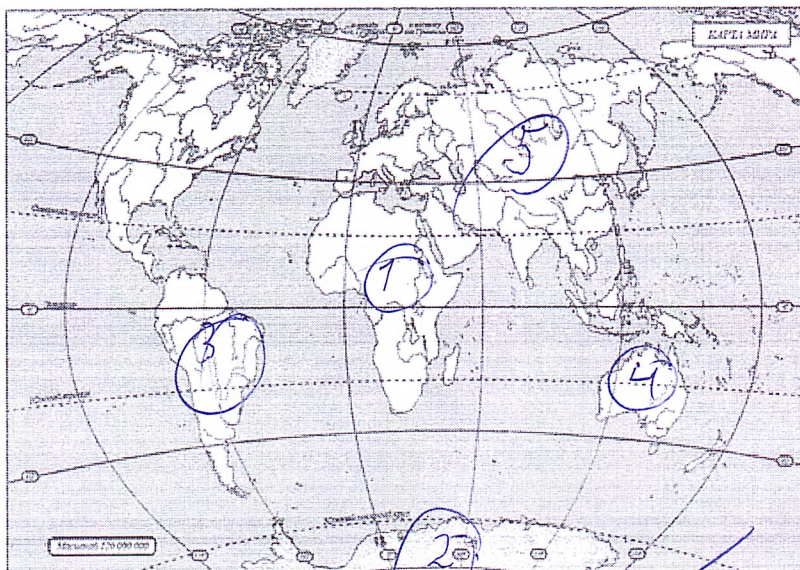
Земляное шельфовое

Всероссийская олимпиада школьников 2024-2025 учебный год
Школьный этап. География, 5 класс,
Время выполнения 45 мин. Максимальное кол-во баллов – 20
БЛАНК ОТВЕТОВ

7510

№ задания	Ответ	Кол-во баллов	№ задания	Ответ	Кол-во баллов
1	A	1	9	Б	1
2	уроза	0	10	Б	1
3	Б	1	11	Г	1
4	A	1	12	В	1
5	Г	1	13	A	1
6	ам, м, км	1	14	В	1
7	В	1	15	Г	0
8	Г	0			
Всего баллов				13	

Практический тур



18